

ให้กาเครื่องหมาย X ทับตัวอักษรหน้าคำตอบที่ถูกต้อง

1. ข้อใดวางแผนการทำงานบ้านได้อย่างเหมาะสมที่สุด
 - ก. ทำงานทันทีที่ต้องการทำ
 - ข. วางแผนการทำงานล่วงหน้า 1 เดือน ทุกครั้ง
 - ค. กำหนดงานอย่างคร่าวๆ แล้วจึงเตรียมอุปกรณ์ที่ใช้ในการทำความสะอาดบ้าน
 - ง. เตรียมอุปกรณ์ที่ใช้ในการทำความสะอาดก่อน แล้วจึงวางแผนว่าจะทำงานอะไรบ้าง
2. เมื่อทำความสะอาดห้องนอนเสร็จแล้ว ควรปฏิบัติอย่างไรจึงจะเหมาะสมที่สุด
 - ก. เรียกผู้ปกครองมาดู
 - ข. จัดเก็บอุปกรณ์ที่ใช้ในการทำมาสะอาด
 - ค. ตรวจสอบความเรียบร้อย และแก้ไขข้อบกพร่อง
 - ง. ทำงานบ้านอย่างอื่นต่อทันที แล้วจึงกลับมาตรวจสอบความเรียบร้อย
3. ข้อใดเป็นการทำความสะอาดบ้านที่ไม่เหมาะสม
 - ก. ปิดฝูละอองจากที่สูงลงสู่ที่ต่ำ
 - ข. กวาดพื้นห้องเสร็จแล้วจึงกวาดหยากไย่บนเพดานห้อง
 - ค. กวาดเศษขยะไปกองไว้ที่เดียวกัน แล้วจึงโยยใส่ที่ตักผง
 - ง. ใช้ผ้าถูพื้นที่ซักรแล้วบิดหมาดๆ ถูพื้นจากด้านในออกมาด้านนอก
4. นักเรียนคิดว่า การคว่ำเก้าอี้ไว้บน โต๊ะเรียนก่อนกวาดและถูพื้นห้องเรียน มีประโยชน์หรือไม่อย่างไร
 - ก. มี เพราะทำให้กวาดและถูพื้นได้สะดวก
 - ข. มี เพราะทำให้เก้าอี้ไม่เป็นฝุ่นละอองที่กวาด
 - ค. ไม่มี เพราะทำให้เสียเวลาในการยกเก้าอี้
 - ง. ไม่มี เพราะทำให้ปวดหลังจากการยกเก้าอี้
5. ใครแต่งกายไม่เหมาะสม
 - ก. ศุภย์ใส่ชุดว่ายน้ำไปว่ายน้ำที่ทะเล
 - ข. หนู่มใส่เสื้อเชิ้ตกับกระโปรงยาวคลุมเข่าไปวัด
 - ค. พาฝันใส่เสื้อยืดกับกางเกงขายาวไปสวนสัตว์
 - ง. แพรวใส่ชุดกระโปรงยาวคลุมเข่าไปงานวันเกิดเพื่อน

6. รองเท้าในข้อใด ไม่ควรทำความสะอาดโดยการซัก

ก.



ข.



ค.



ง.



7. ใครปฏิบัติคนไม่เหมาะสม


- ก. ชีร์เก็บเศษกระดาษที่ไม่ใช่แล้วออกจากกระเป๋านักเรียน
- ข. นันทน์นําน้ำมันไปโรงเรียนเพราะมีเรียนวิชาศิลปะ
- ค. พลซ้กกระเป๋านักเรียนตอนกลางคืนวันอาทิตย์
- ง. วินจัดตารางเรียนของวันถัดไป ในตอนเย็นของทุกวัน

8.

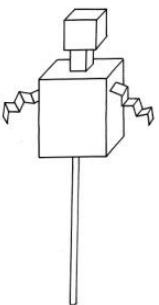
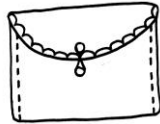




จากภาพ เครื่องมือเกษตรชนิดนี้ใช้ทำอะไร

- ก. พรวนดิน
 - ข. เกี่ยดิน
 - ค. ขุดหลุม
 - ง. ตักดิน
9. ใครใช้เครื่องมือเกษตรไม่เหมาะสมกับงาน
- ก. เตือนใช้จอบตากหญ้า
 - ข. แหวนใช้ปิ้งกี๋รดน้ำต้นไม้
 - ค. เตยใช้คราดคราดหญ้าไปทิ้ง
 - ง. เพลินใช้มีดคายหญ้าตัดกิ่งไม้ขนาดใหญ่

10. พรานตรวจสอบสภาพเสียมแล้วพบว่าด้ามเสียมหลวมเล็กน้อยเท่านั้น พรานจึงนำไปขูดดิน นักเรียนคิดว่า พรานปฏิบัติได้เหมาะสมหรือไม่ อย่างไร
- เหมาะสม เพราะไม่จำเป็นต้องซ่อมแซมเครื่องมือที่ชำรุดเพียงเล็กน้อย
 - เหมาะสม เพราะเสียมที่ด้ามหลวมเล็กน้อย จะทำให้ทำงานได้สะดวก
 - ไม่เหมาะสม เพราะควรตรวจสอบสภาพเสียมหลังจากใช้งานเสร็จแล้ว
 - ไม่เหมาะสม เพราะควรซ่อมแซมด้ามเสียมก่อนนำไปใช้งาน
11. เราควรใช้เครื่องมือในข้อใดตัดคินไม้สำหรับเพาะเมล็ดแบบต้นเดียว
- จอบ
 - พลั่ว
 - ปู้จี้
 - ซ็อนปลูก
12. หากต้องการวัดขนาดของโซฟา ควรใช้เครื่องมือในข้อใด
- ไม้บรรทัด
 - ตลับเมตร
 - ไม้เมตร
 - สายวัด
13.  จากภาพ เป็นอุปกรณ์ที่ใช้ทำสิ่งใดในงานประดิษฐ์
- ใช้วัด
 - ใช้ตัด
 - ใช้เจาะ
 - ใช้ตอกแต่ง
14. ใครปฏิบัติไม่เหมาะสมมากที่สุด
- พุดิใช้กรรไกรตัดเชือกให้มีขนาดเท่าๆ กัน
 - โยธาใช้สว่านวัดความกว้างของกล่องใส่ของ
 - รสาใช้เหล็กแหลมเจาะขวดพลาสติกให้เป็นรู
 - กวีใช้กาวทาแกนกระดาษชำระ 2 ชั้น ให้ติดกัน
15. ก้อยกวาดพื้นบ้านเสร็จแล้ว จึงนำผ้าที่คลุมเครื่องเรือนไปสลัดฝุ่นละอองที่ติดค้างออก และถูพื้นบ้าน นักเรียนคิดว่า ก้อยปฏิบัติได้เหมาะสมหรือไม่
- เหมาะสม เพราะควรกวาดพื้นให้เสร็จก่อน แล้วจึงสลัดฝุ่นละอองที่ผ้าคลุมเครื่องเรือน
 - เหมาะสม เพราะควรสลัดฝุ่นละอองที่ผ้าคลุมเครื่องเรือนก่อน แล้วจึงถูพื้นบ้าน
 - ไม่เหมาะสม เพราะควรสลัดฝุ่นละอองที่ผ้าคลุมเครื่องเรือนก่อน แล้วจึงกวาดพื้น
 - ไม่เหมาะสม เพราะควรกวาดพื้น และถูพื้นบ้านก่อน แล้วจึงสลัดฝุ่นละอองที่ผ้าคลุมเครื่องเรือนออก

16. ข้อใดเป็นขั้นตอนการถูพื้นที่เหมาะสมที่สุด
- ก. ชักผ้าถูบ้าน บิดเพียงเล็กน้อยให้มีน้ำชุ่มๆ และเริ่มถูพื้นจากด้านนอกห้องเข้าไปด้านในห้อง
 - ข. ชักผ้าถูบ้าน บิดเพียงเล็กน้อยให้มีน้ำชุ่มๆ และเริ่มถูพื้นจากด้านในห้องออกมาด้านนอกห้อง
 - ค. ชักผ้าถูบ้าน บิดหมาดๆ และเริ่มถูพื้นจากด้านนอกห้องเข้าไปด้านในห้อง
 - ง. ชักผ้าถูบ้าน บิดหมาดๆ และเริ่มถูพื้นจากด้านในห้องออกมาด้านนอกห้อง
17. เมื่อแต่งกายเสร็จแล้วควรปฏิบัติอย่างไร จึงจะเหมาะสมที่สุด
- ก. ออกจากบ้านทันที
 - ข. ตรวจสอบความเรียบร้อย
 - ค. นั่งพักสักครู่ แล้วจึงออกจากบ้าน
 - ง. เรียกผู้ปกครองมาดูแล และให้ช่วยตัดสินใจในการเลือกชุด
18. ผู้ย่กำลังจะซักทำความสะอาดกระเป๋านักเรียนที่เป็นผ้า แต่พบว่าหูกระเป๋ารูด ผู้ย่ควรปฏิบัติอย่างไร จึงจะเหมาะสมที่สุด
- ก. ทิ้งกระเป๋านั้นทันที
 - ข. ปลดหูทิ้งไว้เช่นนั้น แล้วซักทำความสะอาด
 - ค. เย็บซ่อมแซมตรงที่รูด แล้วซักทำความสะอาด
 - ง. ซักทำความสะอาด แล้วเย็บซ่อมแซมตรงที่รูด
19. เมื่อใช้จอบเสร็จแล้ว ควรปฏิบัติอย่างไรจึงจะเหมาะสมที่สุด
- ก. เช็ดให้แห้ง ตรวจสอบสภาพ และจัดเก็บเข้าที่
 - ข. เช็ดให้แห้ง ทาน้ำมันกันสนิม ตรวจสอบสภาพ และจัดเก็บเข้าที่
 - ค. ล้างให้สะอาด ทาน้ำมันกันสนิม ตรวจสอบสภาพ และจัดเก็บเข้าที่
 - ง. ล้างให้สะอาด เช็ดให้แห้ง ทาน้ำมันกันสนิม ตรวจสอบสภาพ และจัดเก็บเข้าที่
20. เมื่อพบว่าหุ่นจำลองที่เป็นพลาสติกแขนชำรุด ควรปฏิบัติอย่างไรจึงจะเหมาะสมที่สุด
- ก. ทิ้งไป แล้วหาซื้อหุ่นตัวใหม่มาแทน
 - ข. ศึกษาวิธีซ่อมแซมจากแหล่งข้อมูล
 - ค. เก็บใส่กล่องไว้ไม่นำไปเล่น
 - ง. ลงมือซ่อมแซมทันที

21. ใครไม่มีคุณลักษณะนิสัยที่ดีในการทำงาน
- นุ่นวางถ้วยน้ำแข็งใสที่รับประทานเหลือไว้บนโต๊ะที่ตนเองทำงานประดิษฐ์
 - โด่งปลูกผักบุงตามที่แม่มอบหมายให้จนเสร็จ แล้วจึงไปเล่นกับเพื่อน
 - แอนใช้มือลูบที่ชั้นวางหนังสือ เพื่อตรวจสอบว่าปิดฝุ่นละอองหมดแล้ว
 - วิล้างมือหลังจากใช้กาวทากระดาษห่อของขวัญ
22. ถ้าอยากได้กระเป๋าใส่หนังสือที่มีลวดลายและรูปแบบไม่ซ้ำกับใคร เราควรทำอย่างไร
- บอกผู้ปกครองให้ซื้อมาให้
 - ค้นหาร้านขายกระเป๋าที่มีรูปแบบแปลกๆ เพื่อจะไปซื้อ
 - ค้นหาวิธีทำกระเป๋า พร้อมตกแต่งลวดลายด้วยตนเอง
 - ค้นหากระเป๋าที่มีรูปร่างแปลกๆ แล้วนำไปให้ช่างทำตามแบบ
23. เมื่อรวบรวมข้อมูลที่จะทำงานประดิษฐ์ได้แล้ว ควรปฏิบัติอย่างไรจึงจะเหมาะสมที่สุด
- ลงมือทำงาน
 - กำหนดปัญหา
 - ประเมินผลงาน
 - ออกแบบชิ้นงาน
24. ข้อใดเป็นการออกแบบชิ้นงานเป็นภาพร่าง 2 มิติ
- 
 - 
 - 
 - 
25. การทำงานประดิษฐ์ในข้อใดมีส่วนช่วยอนุรักษ์สิ่งแวดล้อม
- ใช้เม็ดมะขามทำเป็นตาตุ๊กตา
 - ตัดใบไม้มาตกแต่งบัตรอวยพร
 - ใช้โฟมมาทำเป็นฐานของกระทง
 - เก็บเปลือกหอยที่ยังไม่ตายจากทะเลมาทำโมบาย

ข้อ 26 – 27 ข้อใดเป็นการใช้สิ่งของที่ไม่เหมาะสม

26. ก. นำเสื้อที่ไม่ใช้แล้วมาทำเป็นกระเป๋า
ข. ใช้เศษไม้จุกที่เหลือมาทำเป็นกรอบรูป
ค. นำดอกอัญชันมาทำเป็นสีตกแต่งงานประดิษฐ์
ง. ใช้กระดาษสีสันสวยงามที่ซื้อใหม่มาตกแต่งงานประดิษฐ์
27. ก. นำสายไฟที่ไม่ใช้แล้วมาใช้ทำงานประดิษฐ์
ข. นำดินเหนียวมาปั้นเป็นรูปสัตว์ต่างๆ
ค. ใช้แกนกระดาษชำระมาประดิษฐ์เป็นที่ใส่ดินสอ
ง. ใช้แป้งมันมาทำกาวสำหรับติดกระดาษ
28. อิฐนำถุงมือที่ชำรุดเล็กน้อยมาประดิษฐ์และตกแต่งเป็นหุ่นมือ อิฐใช้หลัก 4R ในข้อใด
ก. ผลิตใช้ใหม่ (Recycled)
ข. ลดการใช้ (Reduce)
ค. ซ่อมแซม (Repair)
ง. ใช้ซ้ำ (Reuse)

ข้อ 29 – 30 ข้อใดเป็นการนำสิ่งของมาใช้ซ้ำ (Reuse)

29. ก. สานตะกร้าจากไม้ไผ่มาใช้ใส่สิ่งของแทนถุงพลาสติก
ข. นำกล่องกระดาษมาประดิษฐ์เป็นรถเข็น
ค. นำปฏิทินมาทำเป็นบัตรคำอักษรเบรลล์
ง. นำกะละมังพลาสติกที่แตกจนซ่อมแซมไม่ได้มาปลูกต้นไม้
30. ก. นำกล่องคุกกี้ล้างสะอาดแล้วมาใช้ใส่เครื่องประดับ
ข. นำเศษกระดาษที่ใช้ครบทั้ง 2 หน้าแล้ว มาทำกระดาษสา
ค. นำกระดาษลังมาทำเป็นที่คั่นหนังสือ
ง. นำเศษผ้ามาตัดชุดให้ตุ๊กตา
31. ข้อใดไม่ใช่แหล่งข้อมูลในการค้นหาข้อมูลเรื่อง โรคใช้เลือดออก
ก. กระทรวงสาธารณสุข
ข. สถานีอนามัย
ค. โรงพยาบาล
ง. สถานีตำรวจ

32. ข้อใดเป็นประโยชน์ของการพิจารณาข้อมูลที่ค้นหามาได้
- ก. ได้ข้อมูลที่ทันสมัย
 - ข. ได้ข้อมูลที่ถูกต้อง
 - ค. ได้ข้อมูลที่หายาก
 - ง. ได้ข้อมูลที่แปลกใหม่
33. ข้อใดเป็นขั้นตอนการสรุปผล
- ก. ป่าล้อมต้องการค้นหาข้อมูลเรื่องการประติศฐ์ของเล่นจากกระดาษ
 - ข. ต้มนำข้อมูลที่รวบรวม ได้ทั้งหมดมาวิเคราะห์และเปรียบเทียบ
 - ค. มดเลือกข้อมูลที่ตรงกันจากแหล่งข้อมูลหลายๆ แหล่งมานำเสนอ
 - ง. โยสอบถามข้อมูลจากผู้เชี่ยวชาญ
34. หากค้นหาข้อมูลเรื่องวิธีปลูกผักสวนครัว โดยสอบถามจากเกษตรกร และอ่านจากหนังสือในห้องสมุด นักเรียนคิดว่าขั้นตอนต่อไปหากควรปฏิบัติอย่างไร
- ก. เลือกแหล่งข้อมูล
 - ข. พิจารณาข้อมูล
 - ค. เตรียมอุปกรณ์
 - ง. สรุปผล
35. ต้องการรณรงค์ให้ทุกคนในโรงเรียนออกกำลังกาย นักเรียนคิดว่าผู้ควรนำเสนอข้อมูลด้วยวิธีใด
- ก. จัดทำป้ายประกาศ
 - ข. จัดทำเอกสารรายงาน
 - ค. นำเสนอข้อมูลที่หน้าชั้นเรียน
 - ง. จัดทำสื่อนำเสนอด้วยคอมพิวเตอร์
36. อุปกรณ์เทคโนโลยีสารสนเทศในข้อใดให้ข้อมูลข่าวสารที่เป็นปัจจุบัน
- ก. วิทยุ
 - ข. โทรทัศน์
 - ค. โทรศัพท์เคลื่อนที่
 - ง. ข้อ ก. และ ข. ถูก

37. ทิพย์ใช้ผ้าเปียกเช็ดทำความสะอาดคอมพิวเตอร์ขณะที่เครื่องกำลังทำงาน ทิพย์ปฏิบัติเหมาะสมหรือไม่ เพราะอะไร
- ก. ไม่เหมาะสม เพราะอาจถูกไฟฟ้าดูด และทำให้คอมพิวเตอร์เสียหายได้
 - ข. ไม่เหมาะสม เพราะคอมพิวเตอร์อาจเลอะเทอะได้
 - ค. เหมาะสม เพราะคอมพิวเตอร์จะได้สะอาด
 - ง. เหมาะสม เพราะคอมพิวเตอร์จะได้ไม่ร้อน
38. ใครดูแลรักษาอุปกรณ์เทคโนโลยีสารสนเทศ**ไม่เหมาะสม**
- ก. กู้กปิดฝุ่นวิทุยสัปดาห์ละ 1 ครั้ง
 - ข. นกไม่เล่นเกมในโทรศัพท์เคลื่อนที่
 - ค. อื่นใช้กระดาษชำระเช็ดเลนส์กล้องดิจิทัล
 - ง. จุ่มปรับแสงสว่างของภาพโทรทัศน์ให้พอดี
39. หากพบว่าสายไฟของโทรทัศน์ชำรุด ควรปฏิบัติอย่างไร
- ก. ใช้เทปใสพันรอบๆ สายไฟที่ชำรุด
 - ข. เปลี่ยนสายไฟใหม่ด้วยตนเอง
 - ค. ใช้กาวทาบริเวณที่ชำรุด
 - ง. ให้ช่างไฟฟ้าซ่อมแซม
40. ข้อใด**ไม่ใช่**การดูแลรักษากล้องดิจิทัล
- ก. ใช้ผ้านุ่มชุบน้ำบิดหมาดๆ เช็ดเลนส์ และหน้าจอกล้องดิจิทัลเบาๆ
 - ข. ขณะเช็ดทำความสะอาด ควรมีผ้านุ่มๆ ไว้วางกล้องดิจิทัล
 - ค. เมื่อใช้กล้องดิจิทัลเสร็จแล้วเก็บใส่กระเป๋ากล้อง
 - ง. กดปุ่มต่างๆ อย่างทะนุถนอม

