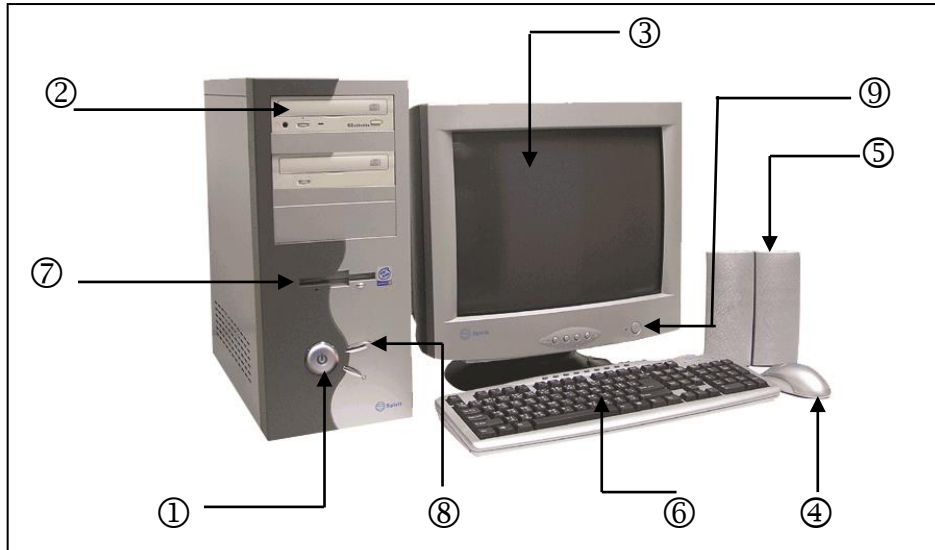


ให้กาเครื่องหมาย X ทับตัวอักษรหน้าคำตอบที่ถูกต้อง

1. การรับรู้ข้อมูลของมนุษย์ไม่เกี่ยวข้องกับข้อใด
  - ก. การได้ยิน
  - ข. การได้ฟัง
  - ค. การได้สัมผัส
  - ง. การสร้างจินตนาการ
2. ข้อใดไม่ใช่ประโยชน์จากการใช้ข้อมูลของนักเรียน
  - ก. สื่อสารกับผู้อื่น
  - ข. ประกอบการตัดสินใจ
  - ค. ค้นคว้าประโยชน์ทางการศึกษา
  - ง. ประกอบอาชีพโดยไม่มีข้อผิดพลาด
3. นิดหน้อยกำลังดูโทรทัศน์อยู่ที่บ้าน นิดหน้อยจะได้รับข้อมูลประเภทใด
  - ก. ข้อมูลภาพและข้อมูลเสียง
  - ข. ข้อมูลตัวเลขและข้อมูลภาพ
  - ค. ข้อมูลเสียงและข้อมูลตัวอักษร
  - ง. ข้อมูลตัวอักษรและข้อมูลภาพ
4. ข้อใดไม่ใช่อุปกรณ์ที่ใช้จัดเก็บข้อมูล
  - ก. วิทยุ
  - ข. แผ่นซีดี
  - ค. ฮาร์ดดิสก์
  - ง. แฟลชไดรฟ์
5. ข้อใดกล่าวได้ถูกต้อง
  - ก. คอมพิวเตอร์ ช่วยแสดงข้อมูลและเก็บข้อมูลได้สะดวกและรวดเร็วขึ้น
  - ข. สแกนเนอร์ ช่วยพิมพ์ชิ้นงานที่ต้องการออกมาอย่างสวยงาม
  - ค. กล้องดิจิทัล ช่วยสแกนข้อความหรือภาพที่อยู่ในรูปสิ่งพิมพ์
  - ง. เครื่องพิมพ์ ช่วยบันทึกภาพได้สะดวกโดยไม่ต้องใช้ฟิล์ม

6. อุปกรณ์ในข้อใดทำหน้าที่เหมือนกัน
- ก. โทรศัพท์เคลื่อนที่ – สแกนเนอร์
- ข. คอมพิวเตอร์ – กล้องดิจิทัล
- ค. แผ่นซีดี – แฟลชไดรฟ์
- ง. เครื่องพิมพ์ – แผ่นซีดี

ดูภาพ แล้วตอบคำถามข้อ 7 – 9



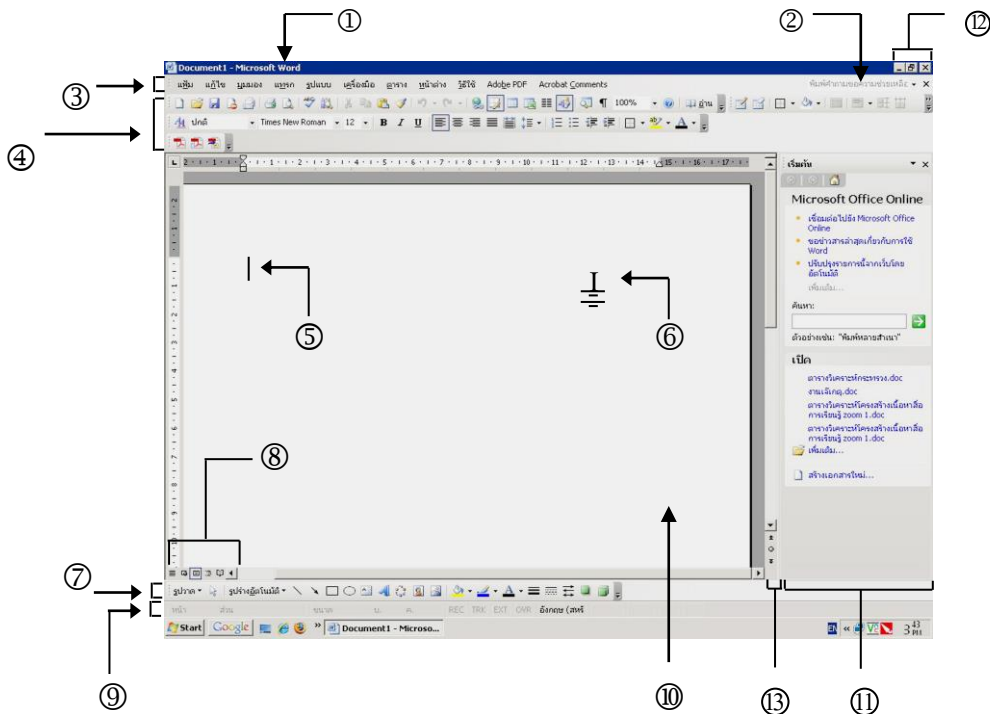
7. อุปกรณ์ใดไม่ได้ปรากฏอยู่ในภาพที่กำหนด
- ก. ฟลอปปีดิสก์ไดรฟ์
- ข. ฮาร์ดดิสก์ภายนอก
- ค. แผงแป้นอักขระ
- ง. จอภาพ
8. จากภาพหมายเลขใดคือปุ่มเปิดเครื่อง
- ก. ①
- ข. ⑦
- ค. ⑧
- ง. ⑨
9. จากภาพหมายเลข ④ คืออุปกรณ์ใด ใช้ทำอะไร
- ก. เมาส์ เป็นอุปกรณ์ชี้ตำแหน่ง
- ข. เมาส์ เป็นอุปกรณ์ที่ใช้แสดงผลข้อมูลต่างๆ
- ค. เมาส์ เป็นอุปกรณ์สำหรับอ่านและเขียนแผ่นซีดี
- ง. เมาส์ เป็นอุปกรณ์ที่ใช้เก็บข้อมูลต่างๆ ของคอมพิวเตอร์
10. อุปกรณ์ใดของคอมพิวเตอร์ที่ทำหน้าที่คล้ายคลึงกับสมองของมนุษย์มากที่สุด
- ก. เคส
- ข. ซีพียู
- ค. เมนบอร์ด
- ง. ยูเอสบีพอร์ต

11. ข้อใดกล่าวถึงการทำงานของคอมพิวเตอร์ไม่ถูกต้อง
- การทำงานจะเริ่มต้นเมื่อคีย์ข้อมูลผ่านแป้นอักขระ
  - หน่วยความจำรวมใช้อ่านข้อมูลได้อย่างเดียว
  - หน่วยคำนวณทำหน้าที่ประมวลผลข้อมูล
  - สแกนเนอร์เป็นอุปกรณ์รับข้อมูล
12. ใครทำงานอยู่ในขั้นตอนการแสดงผลข้อมูล
- โด่งพิมพ์ภาพทะเลที่เขาวาดไว้ในโปรแกรมเพนท์
  - ต้นกำลังถ่ายภาพดอกไม้ด้วยกล้องดิจิทัล
  - โหนดสแกนภาพสิ่งใดจากนิตยสาร
  - นุ่นใช้เมาส์ชี้เลือกภาพที่ต้องการ
13. ข้อใดเป็นลักษณะของความจำหลัก (ROM)
- เป็นหน่วยความจำที่เก็บโปรแกรมไว้ชั่วคราว
  - เขียนหรือบันทึกข้อมูลคำสั่งได้ครั้งเดียว
  - เก็บผลลัพธ์ที่ได้จากการประมวลผล
  - เก็บชุดคำสั่งขณะทำงานอยู่กับเครื่อง
14. ข้อใดเรียงลำดับขั้นตอนกระบวนการทำงานของคอมพิวเตอร์ได้ถูกต้อง
- |                               |  |
|-------------------------------|--|
| (1) หน่วยคำนวณประมวลผลข้อมูล  | (2) ป้อนข้อมูลเข้าสู่คอมพิวเตอร์             |
| (3) จัดเก็บข้อมูลในความจำหลัก | (4) ส่งข้อมูลมาที่หน่วยควบคุมแล้วจำแนกข้อมูล |
- (2) (1) (3) (4)
  - (2) (4) (1) (3)
  - (2) (4) (3) (1)
  - (2) (3) (4) (1)
15. ข้อใดเป็นอุปกรณ์ที่มีลักษณะการทำงานไม่เหมือนกัน
- |                         |                          |
|-------------------------|--------------------------|
| ก. จอภาพ – เครื่องพิมพ์ | ข. แฟลชไดรฟ์ – แผ่นดิสก์ |
| ค. สแกนเนอร์ – แผ่นซีดี | ง. เมาส์ – แผงแป้นอักขระ |
16. ใครได้รับประโยชน์จากการใช้คอมพิวเตอร์มากที่สุด
- นิคเล่นเกมคอมพิวเตอร์เป็นเวลานาน
  - นุชพิมพ์รายงานส่งครูด้วยเครื่องคอมพิวเตอร์
  - น้ำใช้คอมพิวเตอร์คุยกับผู้อื่นทางอินเทอร์เน็ต
  - หนองคุณภาพยนตร์อยู่หน้าจอคอมพิวเตอร์วันละ 20 ชั่วโมง

17. การใช้คอมพิวเตอร์ในลักษณะใด ส่งผลเสียต่อร่างกายมากที่สุด
- ดูหนัง ฟังเพลง
  - เล่นเกมจนไม่พักผ่อน
  - ใช้โปรแกรมสนทนาคุยกับเพื่อน
  - ค้นหาข้อมูลรายงานจากอินเทอร์เน็ต
18. ข้อใดเรียงลำดับขั้นตอนการสร้างแฟ้มข้อมูลในคอมพิวเตอร์ได้ถูกต้อง
- |                                |                          |
|--------------------------------|--------------------------|
| (1) เลื่อนเมาส์มาที่คำสั่ง New | (2) คลิกขวาบนพื้นที่ว่าง |
| (3) ปรากฏไอคอน New Folder      | (4) เลือกคลิกที่ Folder  |
- (1) (4) (3) (2)
  - (2) (4) (3) (1)
  - (2) (1) (4) (3)
  - (1) (3) (2) (4)
19. เพราะเหตุใดเมื่อนักเรียนสร้างแฟ้มข้อมูลจึงควรเปลี่ยนชื่อแฟ้มข้อมูลด้วย
- ทำให้ดูสวยงาม
  - สะดวกในการเก็บและค้นข้อมูล
  - เป็นธรรมเนียมที่ผู้ใช้คอมพิวเตอร์ต้องปฏิบัติ
  - จัดเป็นโปรแกรมบังคับเมื่อสร้างแฟ้มข้อมูลใหม่
20. ข้อใดกล่าวไม่ถูกต้องเกี่ยวกับระบบปฏิบัติการ
- ดอส ใช้คำสั่งเป็นตัวอักษร
  - โอเอสทู เป็นระบบที่ผู้ใช้ทำงานได้ที่ละงาน
  - ยูนิกซ์ ใช้กับเครื่องปลายทางได้หลายเครื่องพร้อมกัน
  - วินโดวส์ พัฒนาต่อจากดอสและทำงานได้หลายงานพร้อมกัน
21. กมลต้องการทำบัญชีรายรับ – รายจ่ายของร้านค้า กมลควรเลือกใช้ซอฟต์แวร์ประเภทใด
- ซอฟต์แวร์ตารางการทำงาน
  - ซอฟต์แวร์สื่อสารข้อมูล
  - ซอฟต์แวร์ประมวลคำ
  - ซอฟต์แวร์นำเสนอ

22. ข้อใดเรียงลำดับขั้นตอนการใช้งานโปรแกรมไมโครซอฟต์เวิร์ดได้ถูกต้อง
- คลิกที่ Start ► All Programs ► Microsoft Office ► Microsoft Office Word
  - คลิกที่ All Programs ► Start ► Microsoft Office ► Microsoft Office Word
  - คลิกที่ Start ► Microsoft Office ► Accessories ► Microsoft Office Word
  - คลิกที่ Start ► All Programs ► System ► Microsoft Office Word





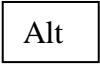

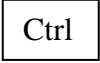


ดูภาพแล้วตอบคำถามข้อ 23 – 27

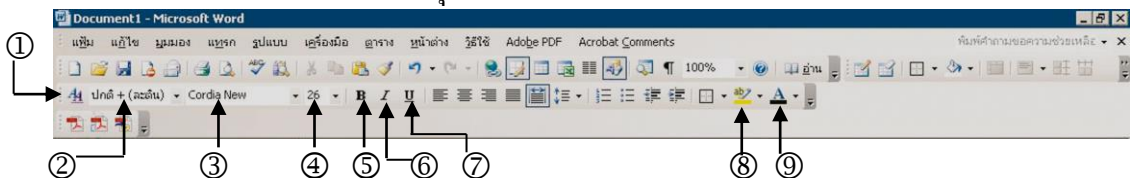


23. วินัยกำลังใช้โปรแกรมไมโครซอฟต์เวิร์ดพิมพ์งานอยู่ เขาเปิดเอกสารชื่อรายงานวิชาเทคโนโลยี









ชื่อเอกสารที่วินัยกำลังใช้จะปรากฏอยู่บริเวณหมายเลขใดในภาพ



- ①
  - ②
  - ③
  - ④
  - ⑤
  - ⑥
  - ⑦
  - ⑧
  - ⑨
  - ⑩
  - ⑪
  - ⑫
24. ถ้าต้องการแทรกสัญลักษณ์พิเศษ ควรคลิกบริเวณหมายเลขใด
- ②
  - ③
  - ④
  - ⑧
25. ถ้าต้องการปิดเอกสารที่เปิดไว้ ควรคลิกบริเวณหมายเลขใด
- ③
  - ⑦
  - ⑧
  - ⑫


26. เครื่องมือบริเวณหมายเลข ④ ใช้ทำอะไรไม่ได้
- สั่งพิมพ์เอกสาร
  - คัดลอกข้อความ
  - ปรับขนาดรูปแบบตัวอักษร
  - เปลี่ยนมุมมองของเอกสาร
27. หมายเลข ③ เป็นตำแหน่งที่ใช้ทำอะไร
- ขยายหน้าต่าง
  - เลื่อนคูเอกสาร
  - บอกสถานะทำงาน
  - แสดงการประมวลผลข้อมูล
28. ข้อใดเป็นปุ่มที่เกี่ยวข้องกับการพิมพ์คำว่า “ไฟล์ (File)” บนคอมพิวเตอร์
- ปุ่ม 
  - ปุ่ม 
  - ปุ่ม 
  - ปุ่ม 
29. ใครใช้คำสั่งเลือกข้อความในแนวตั้งของโปรแกรมไมโครซอฟต์เวิร์ดได้ถูกต้อง
- ก๊อคลิกเมาส์ที่ตำแหน่งเริ่มต้น กด  ค้างและคลิกลากเมาส์จนถึงข้อความที่ต้องการแล้วปล่อย
  - วุ่นเลื่อนเมาส์ไปด้านซ้ายจนเปลี่ยนเป็น  กด  ค้าง แล้วคลิกเมาส์ 1 ครั้ง
  - จืดเลื่อนเมาส์ไปด้านซ้ายจนเปลี่ยนเป็น  คลิกลากไปถึงจุดที่ต้องการแล้วปล่อย
  - นุ่นคลิกเมาส์ที่ตำแหน่งเริ่มต้น กด  ค้าง และคลิกที่ตำแหน่งท้าย
30. จุ่มต้องการพิมพ์ข้อความในโปรแกรมไมโครซอฟต์เวิร์ด โดยใช้แบบอักษร Angsana New ขนาด 18 ตัวอักษรตัวหนาสีเขียว จุ่มจะต้องใช้คำสั่งหมายเลขใดบ้าง



- ① ③ ⑥ ⑨
- ② ④ ⑤ ⑧
- ③ ④ ⑤ ⑧
- ③ ④ ⑤ ⑨

31. ข้อใดเรียงลำดับขั้นตอนการใส่รูปภาพในโปรแกรมไมโครซอฟต์เวิร์ดได้ถูกต้อง
- (1) คลิกที่แถบเมนูแทรก (2) คลิกบริเวณพื้นที่ที่ต้องการ  
 (3) คลิกแทรก (4) ซึ่เมาส์ไปที่รูปภาพ ภาพตัดปะ  
 (5) คลิกเลือกรูปภาพที่ต้องการ
- ก. (1) (4) (5) (2) (3)  
 ข. (2) (1) (4) (5) (3)  
 ค. (3) (5) (4) (2) (1)  
 ง. (4) (2) (1) (5) (3)
32. ข้อใดเรียงลำดับขั้นตอนการเรียกใช้งานโปรแกรมเพนท์ได้ถูกต้อง
- ก. คลิกที่ Start ► Accessories ► untitled - Paint ► Paint  
 ข. คลิกที่ Start ► All Programs ► untitled – Paint ► Paint  
 ค. คลิกที่ Start ► All Programs ► Accessories ► Paint  
 ง. คลิกที่ Start ► All Programs ► System ► Paint
33. ข้อใดกล่าวไม่ถูกต้องเกี่ยวกับโปรแกรมเพนท์
- ก. แถบหัวเรื่อง เป็นที่แสดงชื่อโปรแกรมและชื่อเอกสารที่กำลังใช้อยู่  
 ข. คำสั่งแฟ้ม เป็นคำสั่งสำหรับใช้แก้ไขตกแต่งงานที่กำลังทำอยู่  
 ค. แถบเมนู เป็นที่รวมคำสั่งทั้งหมดที่ใช้ในโปรแกรมเพนท์  
 ง. กล่องเครื่องมือ เป็นเครื่องมือที่ใช้จัดการกับภาพ
34. ใครใช้เครื่องมือในโปรแกรมเพนท์ได้ถูกต้อง
- ก. กบใช้เครื่องมือ  สร้างเส้นตรง  
 ข. วิวใช้เครื่องมือ  ฟันสีภาพ  
 ค. หนูยู่ใช้เครื่องมือ  วาดภาพ  
 ง. จี๊ดใช้เครื่องมือ  ลบภาพ
35. เมื่อต้องการวาดภาพอิสระในโปรแกรมเพนท์ ควรเลือกใช้เครื่องมือในข้อใด
- ก.  ข.   
 ค.  ง. 

36. ข้อใดเรียงลำดับขั้นตอนการพิมพ์ข้อความลงในภาพในโปรแกรมเพนต์ที่ได้ถูกต้อง
- (1) เลือกแบบของข้อความ (2) พิมพ์ข้อความ  
 (3) คลิกเลือกเครื่องมือ  (4) คลิกลากเส้นขอบเขตที่ต้องการพิมพ์
- ก. (3) (2) (4) (1)  
 ข. (3) (4) (1) (2)  
 ค. (1) (2) (3) (4)  
 ง. (1) (4) (2) (3)
37. สัมผัสคลิกเลือกเครื่องมือ  แสดงว่าสัมต้องการทำงานใด
- ก. ลบภาพ ข. ฟั่นสีภาพ  
 ค. หมุนภาพ ง. ระบายสีภาพ
38. หนูนิดต้องการระบายสีภาพต้นไม้ที่วาดในโปรแกรมเพนต์ หนูนิดควรใช้วิธีใดจึงจะเหมาะสมและรวดเร็วที่สุด
- ก. ใช้เครื่องมือกระป๋องเทสี  
 ข. ใช้เครื่องมือแปรงทาสี  
 ค. ใช้เครื่องมือหลอดดูดสี  
 ง. ใช้เครื่องมือดินสอสี
39. รูปภาพแล้วระบุว่าเป็นการวาดจากเครื่องมือชนิดใดในโปรแกรมเพนต์



- ก.   ข.  
- ค.   ง.  



40. การกำหนดพื้นที่ก่อนวาดภาพลงในโปรแกรมเพนที่มีขั้นตอนอย่างไร
- ก. Image ► Attributes ► กำหนดขนาดกรอบ ► คลิก Default
  - ข. Image ► Attributes ► กำหนดขนาดกรอบ ► คลิก OK
  - ค. Edit ► Attributes ► กำหนดขนาดกรอบ ► คลิก Image
  - ง. Edit ► Attributes ► กำหนดขนาดกรอบ ► คลิก OK

