

ให้กาเครื่องหมาย X ทับตัวอักษรหน้าคำตอบที่ถูกต้อง

1. อาหารจานนี้มีกลิ่นหอมน่ารับประทาน ข้อความนี้เกี่ยวข้องกับอวัยวะรับสัมผัสในข้อใด

ก. ตา

ข. จมูก

ค. ผิวหนัง

2.



บุคคลในภาพได้รับข้อมูลประเภทใด

ก. ข้อมูลภาพ

ข. ข้อมูลตัวอักษร

ค. ข้อมูลตัวเลข

3. ข้อใดให้ข้อมูลประเภทข้อมูลตัวเลข


ก.



ข.



ค.



4. ตุ๊กอ่านหนังสือเป็นประจำ จากข้อความนี้แสดงว่าตุ๊กใช้ประโยชน์ของข้อมูลในด้านใดมากที่สุด

ก. ด้านการสื่อสาร

ข. ด้านการตัดสินใจหรือแก้ไขปัญหา

ค. ด้านการเรียนรู้และการพัฒนาตนเอง

5. นกเป็นแม่ค้าขายข้าวแกงอยู่ในตลาดหน้าหมู่บ้านแห่งหนึ่ง นกพยายามสอบถามลูกค้าเกี่ยวกับเรื่องราวรสชาติอาหารและนำไปปรับให้ข้าวแกงมีรสชาติตรงตามความต้องการของลูกค้า ทำให้ข้าวแกงของนกขายดีกว่าร้านอื่น จากข้อความนี้แสดงว่านกใช้ประโยชน์จากข้อมูลในด้านใด

ก. ด้านการสื่อสาร

ข. ด้านการประกอบอาชีพ

ค. ด้านการตัดสินใจหรือแก้ไขปัญหา

6. ข้อใดเป็นแหล่งข้อมูลขั้นต้น

ก.



ข.



ค.



7. ถ้านักเรียนดูรายการโทรทัศน์ แล้วเห็นว่า กำนันชด ซึ่งเป็นกำนันของตำบลที่นักเรียนอาศัยอยู่ เป็นผู้เชี่ยวชาญด้านปฏบัติสุขภาพ แล้วนักเรียนต้องการทราบวิธีผลิตปฏบัติสุขภาพ นักเรียนควหาข้อมูลอย่างไร

ก. สอบถามกำนันชดด้วยตนเอง

ข. โทรศัพทสอบถามสถานีโทรทัศน์

ค. สอบถามเพื่อนบ้านที่บันทึกเทปรายการนี้ไว้

8. แหล่งข้อมูลใดให้ข้อมูลแตกต่างจากข้ออื่น

ก. นิตยสาร

ข. โทรศัพท

ค. คอมพิวเตอร์

9. ข้อใดถูกต้องเกี่ยวกับการรวบรวมข้อมูลโดยการสังเกต

ก. จัดบันทึกรายละเอียดทุกอย่างที่พบ

ข. มีจุดมุ่งหมายในการสังเกตที่แน่นอน

ค. ถูกทั้งข้อ ก และข้อ ข

10. เมื่อจำแนกข้อมูลเป็นหมวดหมู่แล้ว ขั้นตอนต่อไปในการจัดการข้อมูลควรปฏิบัติอย่างไร

ก. จัดเก็บข้อมูล

ข. ตรวจสอบข้อมูล

ค. รวบรวมข้อมูล

11. นทิตตรวจสอบใบเสร็จรับเงินค่าไฟฟ้า และลดการใช้ไฟฟ้าลงในเดือนต่อมา จากข้อความนี้ นทิตใช้ประโยชน์จากแหล่งข้อมูลในข้อใด


ก. ใช้เป็นหลักฐานอ้างอิง

ข. ใช้เป็นแหล่งในการค้นคว้าหาข้อมูล

ค. ใช้เป็นแนวทางในการปฏิบัติตนที่เหมาะสม

12. ใครปฏิบัติคนใดถูกต้องในการรักษาแหล่งข้อมูล

ก.



ข.



ค.



13.



จากภาพ แหล่งข้อมูลนี้ให้ประโยชน์ในข้อใดมากที่สุด

ก. ให้ข้อมูลความรู้ต่างๆ จากการอ่าน

ข. ให้ข้อมูลข่าวสาร และความบันเทิงต่างๆ จากการฟัง

ค. ให้ข้อมูลต่างๆ ผ่านทางเว็บไซต์ โดยการอ่าน การฟัง และการดู

14. อุปกรณ์ใดทำหน้าที่รับข้อมูลเข้าสู่คอมพิวเตอร์

ก. ซีพียู

ข. แผงแป้นอักขระ

ค. เครื่องพิมพ์

15. ข้อใดเปรียบเสมือนสมองของคอมพิวเตอร์

ก. จอภาพ

ข. ซีพียู

ค. เมมอสี่

16. ข้อใดกล่าวได้ถูกต้อง

ก. จอภาพมีลักษณะคล้ายกับเสาอากาศของวิทยุ

ข. เคสจะถูกรรจุมไว้ในกล่องสี่เหลี่ยมที่เรียกว่า ซีพียู

ค. เครื่องพิมพ์เป็นอุปกรณ์ที่ใช้พิมพ์ข้อความและรูปภาพลงบนกระดาษเพื่อแสดงข้อมูล

17. อุปกรณ์เก็บข้อมูลในข้อใดที่เรียกว่า แฟลชไดรฟ์

ก.




ข.



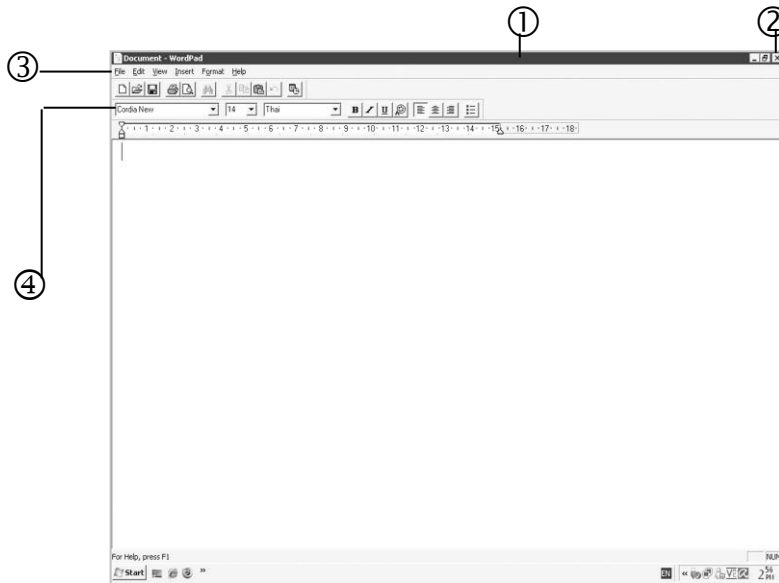
ค.



26. แป้นในข้อใดใช้กดเพื่อขึ้นบรรทัดใหม่ขณะกำลังพิมพ์เอกสาร



ดูภาพ และตอบคำถามข้อ 27



27. จากภาพ หมายเลขใดคือแถบเครื่องมือ

ก. ②

ข. ③

ค. ④

28. ข้อใดเรียงลำดับขั้นตอนการบันทึกข้อมูลที่พิมพ์ได้ถูกต้อง

1. เลือก Save As....

2. คลิก File

3. คลิก Save

4. พิมพ์ชื่อไฟล์เอกสารที่ File name

ก. 1 2 3 4

ข. 2 1 4 3

ค. 3 1 2 4

29. ข้อใดเรียงลำดับขั้นตอนการเปลี่ยนภาพพื้นหลังได้ถูกต้อง

1. คลิกขวาที่เมาส์บริเวณเดสก์ทอป

2. เลือกป้าย Desktop และเลือกภาพ

3. เลือก Properties

4. คลิก OK เพื่อยืนยัน

ก. 1 2 3 4

ข. 1 3 4 2

ค. 1 3 2 4

30. ใครดูแลรักษาเครื่องคอมพิวเตอร์ได้ถูกต้อง

ก. นุ่นวางกล่องใส่ซีพียูในบริเวณที่อากาศถ่ายเทได้สะดวก

ข. สัมผัสฝุ่นละอองที่เครื่องคอมพิวเตอร์เดือนละ 1 ครั้ง

ค. จำใช้น้ำยาทำความสะอาดชนิดลงบนจอภาพและใช้ผ้าเช็ด

.. ❁ ❁ ❁ ❁ ❁ ❁ ❁ ❁ ❁ ❁ ❁ ❁ ..